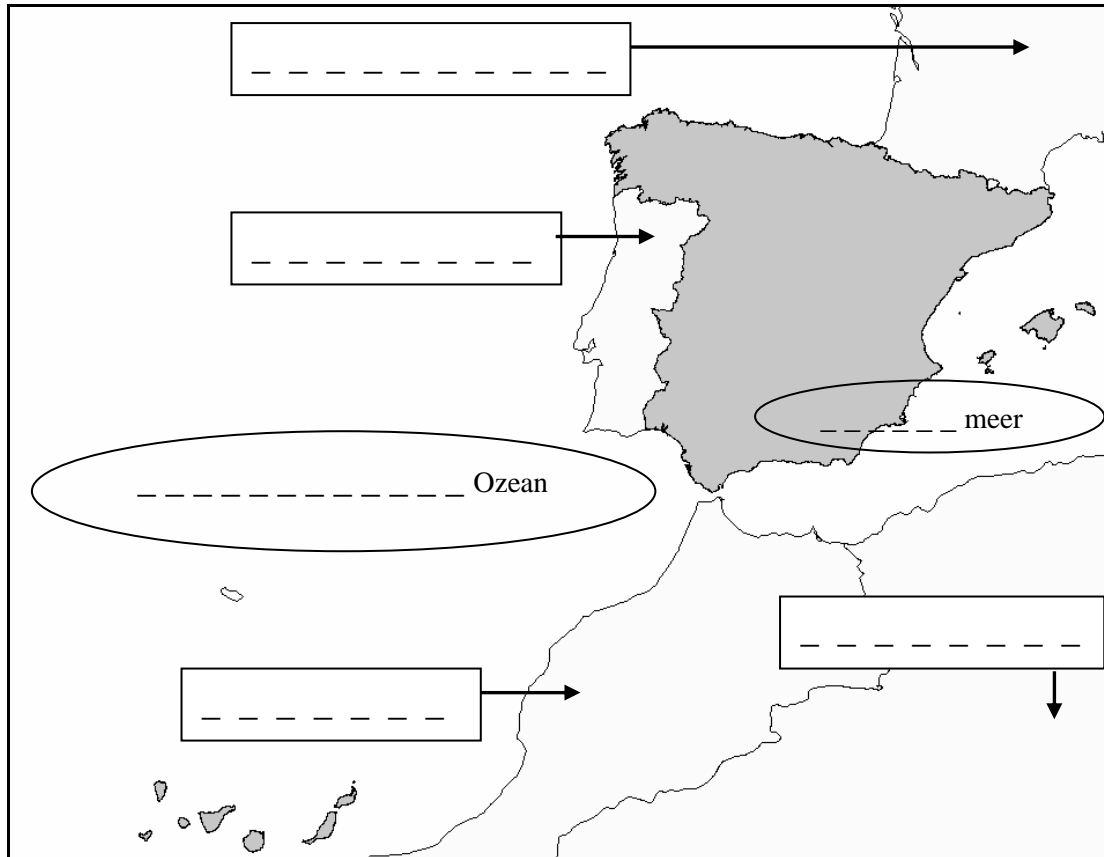
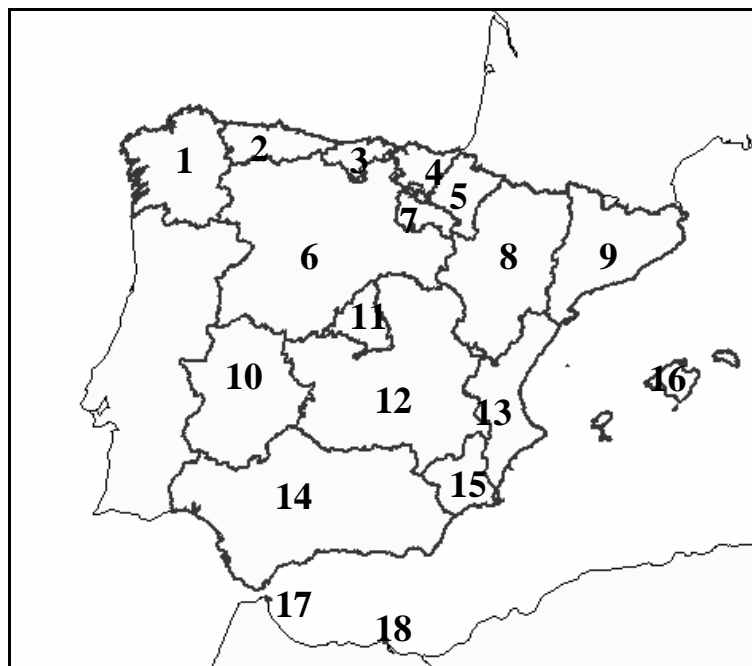


1. Gehe auf die URL: [http://www.webgis-schule.de/website/esp\\_topo!](http://www.webgis-schule.de/website/esp_topo!)
2. Schraffiere in der folgenden Karte das spanische Gebiet (Festland und Inselgruppen) mit einem Buntstift und trage in die weißen Kästen die Namen der Nachbarstaaten Spaniens sowie die der angrenzenden Meere ein!  
Nutze hierzu Dein Vorwissen sowie das Werkzeug **i** („Identifizieren“)!  
Beachte, daß der Layer „Spanien“ „sichtbar“ und „aktiv“ geschaltet sein muß!



- 3.1 „Identifiziere“ die Namen der Regionen Spaniens und ordne sie den folgenden Zahlen zu! Beachte, daß nun ein anderer Layer „sichtbar“ und „aktiv“ geschaltet werden muß und daß die Karte nach dieser neuen Auswahl „aktualisiert“ werden muß!



Name des aktiven und sichtbaren Layers: .....

1: ..... 10: .....

2: ..... 11: .....

3: ..... 12: .....

4: ..... 13: .....


5: ..... 14: .....

6: ..... 15: .....

7: ..... 16: .....

8: ..... 17: .....

9: ..... 18: .....

3.2 Wie heißt die spanische Region, die außerhalb des auf Deinem Arbeitsblatt abgebildeten Kartenausschnitts liegt? Schau Dir dazu den Bereich westlich von Nordafrika durch „Heranzoomen“  näher an!



.....

3.3 Nenne die beiden Regionen Spaniens, die auf dem afrikanischen Kontinent liegen!

.....

3.4 In wieviele Regionen ist Spanien nach Zusammenfassung Deiner Ergebnisse aus 3.1 und 3.2 insgesamt unterteilt?

.....

4. Suche  die folgenden Städte und finde über  heraus, in welcher Region sie liegen! Achte darauf, wann Du welchen der beiden Layer „aktiv“ schalten mußt!

Salamanca: .....

Santiago de Compostela: .....

Oviedo: .....

Granada: .....

Huesca: .....

Madrid: .....