




1. Gehe auf die URL: http://www.webgis-schule.de/website/esp_topo!

- 2.1 Welche Gesamtfläche (in Quadratkilometer) umfaßt ganz Spanien?
Nutze zur Beantwortung dieser Frage das Werkzeug  („Identifizieren“)!
Beachte, daß der Layer „Spanien“ „sichtbar“ und „aktiv“ geschaltet sein muß!
.....

- 2.2 Weißt Du wieviele Quadratkilometer Deutschland zum Vergleich einnimmt?
Falls Du es nicht genau weißt, vergleiche die Größe der beiden Staaten im WebGIS,
indem Du herauszoomst  und schätze!
.....

- 3.1 Wie heißt das GIS-Werkzeug , das Dir durch die Möglichkeit zur Formulierung von
logischen Abfragen bei der Beantwortung der folgenden Fragen hilft?
.....

- 3.2 Welche Regionen haben eine Fläche von weniger als 5000 Quadratkilometer?
Beachte, daß nun ein anderer Layer „sichtbar“ und „aktiv“ geschaltet werden muß und
daß die Karte nach dieser neuen Auswahl „aktualisiert“ werden muß!
.....

- 3.3 Welche Regionen sind größer als 70000 Quadratkilometer?
.....

4. Welches ist die größte Region Spaniens, welches die kleinste?
Arbeite mit dem „Abfrage-Manager“ und schau Dir die Lage der Regionen auf der
Karte genau an!
 - a) das gesamte spanische Gebiet betrachtend (Festland, spanische Städte in
Nordafrika, Inseln)
gröÙte:

kleinste:

- b) lediglich das spanische Festland betrachtend
gröÙte:

kleinste: