
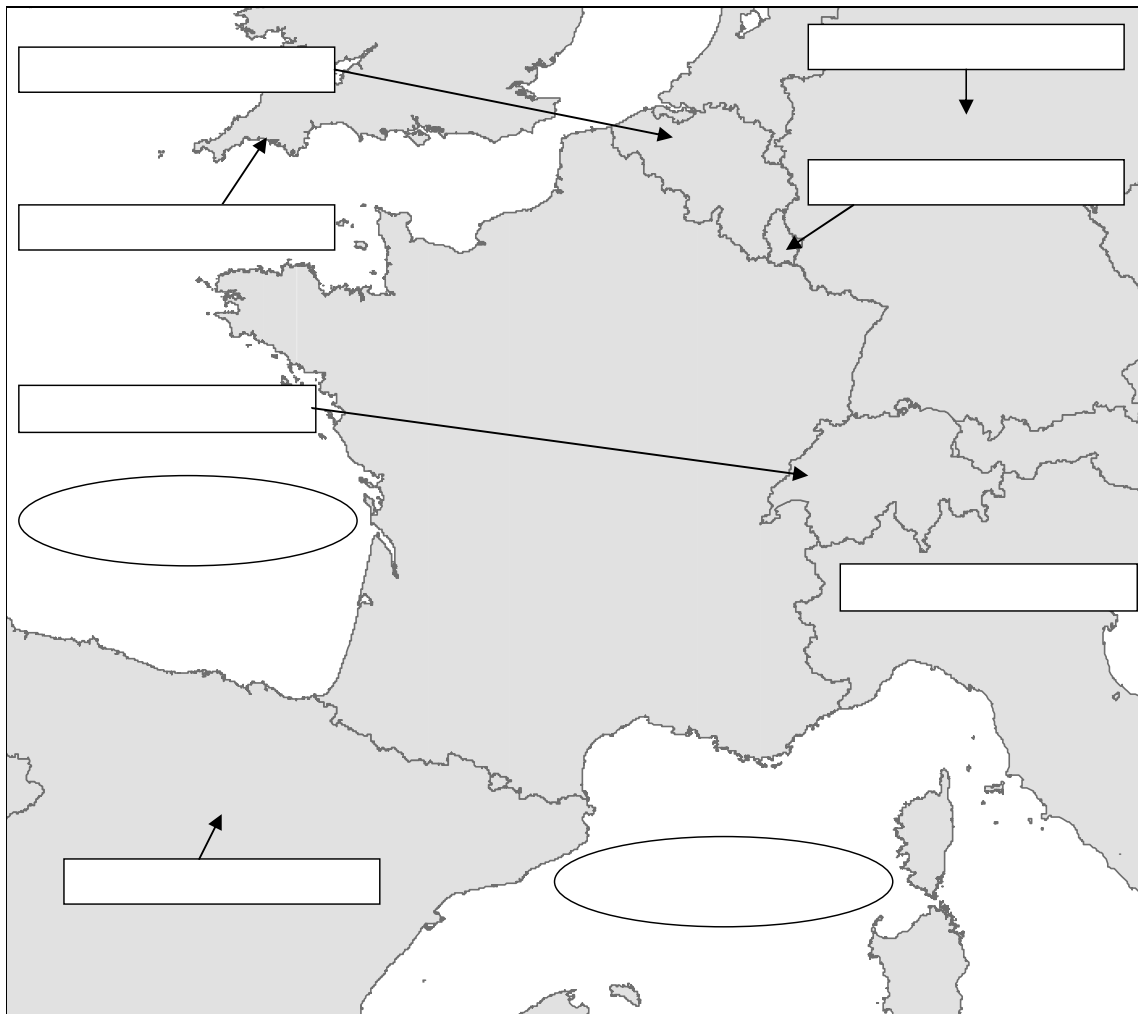


Thema: Frankreich – Topographie

Arbeitsblatt 1: Allgemeine Topographie

1. Gehe auf die URL: http://www.webgis-schule.de/website/france_topo.
2. Schraffiere in der folgenden Karte das Gebiet von Frankreich (Festland und Insel) mit einem Buntstift und trage in die weißen Kästen die Namen der Nachbarstaaten Spaniens sowie die der angrenzenden Meere ein!


Nutze hierzu Dein Vorwissen sowie das Werkzeug  „Identifizieren“! Beachte, dass der Layer „Länder“ „sichtbar“ und „aktiv“ geschaltet sein muss!



3. Bestimme die geographische Lage von Frankreich. Schalte dazu das Thema „Gradnetz“ sichtbar (durch Setzen eines Häkchens in der Themenliste) und bestimme die geographischen Koordinaten des südlichsten und nördlichsten sowie des westlichsten und östlichsten Punktes vom Festland und der Insel.

Festland: nördlichster Punkt: _____
südlichster Punkt: _____
westlichster Punkt: _____
östlichster Punkt: _____

Insel : nördlichster Punkt: _____
südlichster Punkt: _____
westlichster Punkt: _____
östlichster Punkt: _____

4. Wir wollen die räumlichen Dimensionen von Frankreich kennen lernen. Messe dazu die einzelnen Strecken und trage sie in folgende Karte ein. Nutze hierzu das Werkzeug  „Messen“!

