


## Thema: Frankreich – Topographie

### Arbeitsblatt 1: Allgemeine Topographie

1. Gehe auf die URL: [http://www.webgis-schule.de/website/france\\_topo](http://www.webgis-schule.de/website/france_topo).
2. Schalte das Kartenthema „Flüsse“ sichtbar, indem Du ein Häkchen in das Kontrollkästchen in der Liste mit den Kartenthemen setzt. Nenne die vier größten Flüsse in Frankreich. Nutze Dein Vorwissen und das Werkzeug  „Identifizieren“. Welches Thema muss dabei „aktiv“ sein?

Aktives Thema: \_\_\_\_\_

\_\_\_\_\_


\_\_\_\_\_

\_\_\_\_\_

3. „Identifiziere“  die Regionen Frankreichs mit der höchsten und der niedrigsten Einwohnerzahl.


Höchste Einwohnerzahl: \_\_\_\_\_

Niedrigste Einwohnerzahl: \_\_\_\_\_

4. Nenne die beiden „Départments“ mit den höchsten und die beiden mit den niedrigsten Einwohnerzahlen! Nutze das Werkzeug  „Abfragemanager“!  
Wie groß sind die zugehörigen Flächen? Berechne die Einwohnerdichten der beiden „Départments“?

Name des Departments	Einwohnerzahl 2002	Fläche	Bevölkerungsdichte

5. Wie viele „Regionen“ gibt es in Frankreich?
- \_\_\_\_\_

6. Wie viele „Départments“ gibt es in Frankreich? Nutze das Werkzeug  „Mit Rechteck auswählen“
- \_\_\_\_\_