


## SUJET: La France – Topographie

### Fiche de Travail 2 : topographie générale

1. Va sur le site web: [http://www.webgis-schule.de/website/france\\_topo](http://www.webgis-schule.de/website/france_topo).
2. Clique sur «Flüsse» (fleuve) dans la liste des thèmes de cartes. Cite les quatre plus grands fleuves en France. Utilise tes connaissances et l'outil  «Identifizieren».
 


Identifie quel thème doit-être activé?

Thème actif: \_\_\_\_\_

\_\_\_\_\_


\_\_\_\_\_

\_\_\_\_\_

3. Identifie avec  «Identifizieren» les régions de France avec la plus forte et la plus faible population.


La population la plus forte: \_\_\_\_\_

La population la plus faible: \_\_\_\_\_

4. Cite les deux départements avec la plus forte population et deux départements avec la plus faible population. Pour cela utilise l'outil  „Abfragemanager“ (Interroger) et pose la question. Quelles sont les superficies correspondantes ? Calcule la densité de population dans ces départements?

Nom du département	Population en 2002	Superficie	Densité de la population

5. Combien y a-t-il de régions en France ?
- \_\_\_\_\_

6. Combien de départements y a-t-il en France ? Utilise l'outil  „Mit Rechteck auswählen“ (choisir avec le coin droit).
- \_\_\_\_\_