
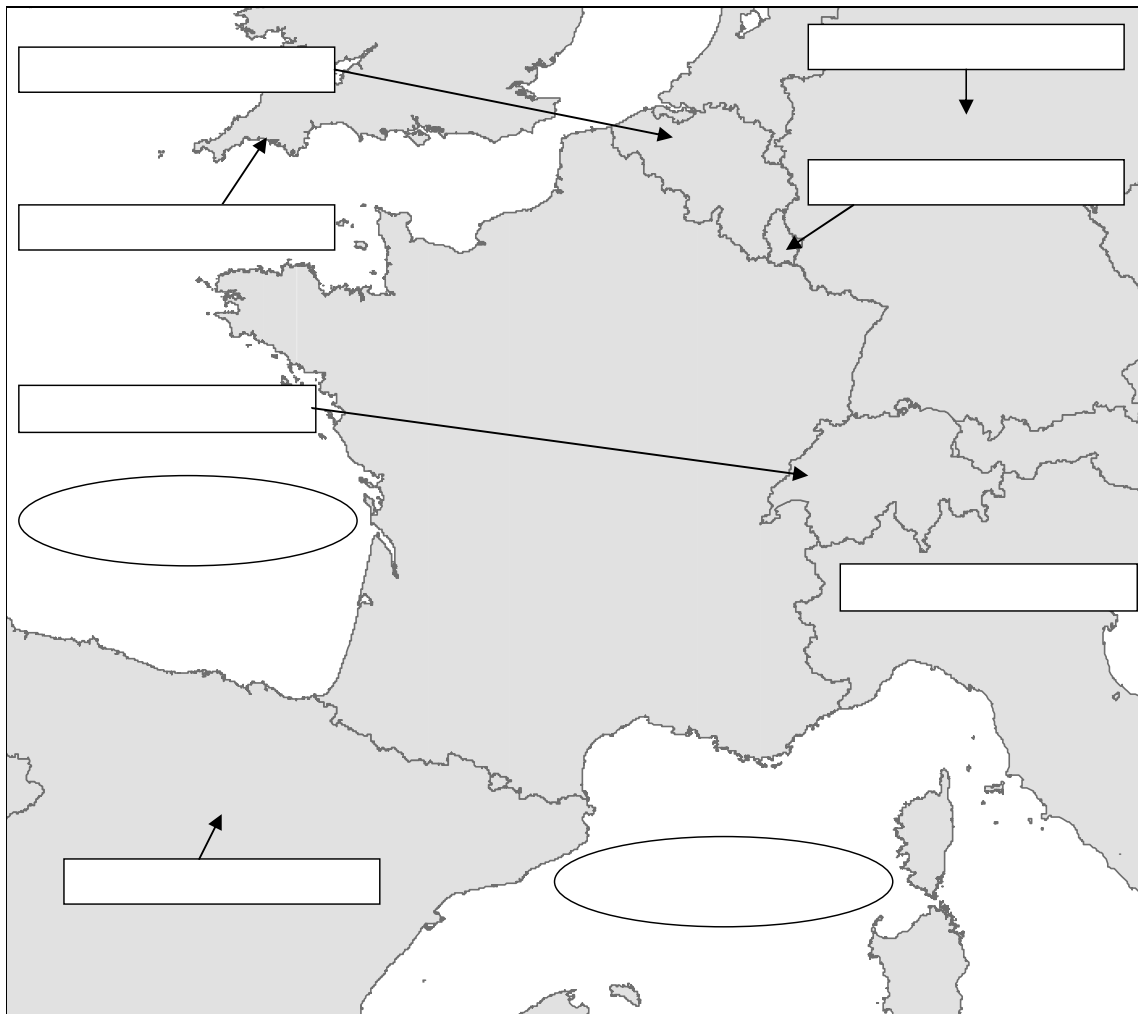


## SUJET: La France – Topographie

### Fiche de Travail 1 : topographie générale

1. Va sur le site web: [http://www.webgis-schule.de/website/france\\_topo](http://www.webgis-schule.de/website/france_topo).
2. Délimite dans la carte suivante le territoire de la France (continent + la Corse) avec un crayon de couleur et inscris dans les cases blanches le nom des pays limitrophes ainsi que les mers qui le bordent.


Utilise tes connaissances ainsi que l'outil  «Identifizieren». Veille à ce que la couche région («Länder») soit visible et activée.



3. Détermine la situation géographique de la France. Pour cela clique sur le thème „Gradnetz“ (coordonnées géographiques) et détermine les coordonnées géographiques des points situés les plus au Sud et au Nord ainsi que les plus à l’Ouest et à l’Est du territoire et de la Corse.

Territoire: Point le plus au Nord: \_\_\_\_\_  
Point le plus au Sud: \_\_\_\_\_  
Point le plus à l’Ouest: \_\_\_\_\_  
Point le plus à l’Est: \_\_\_\_\_

La Corse: Point le plus au Nord: \_\_\_\_\_  
Point le plus au Sud: \_\_\_\_\_  
Point le plus à l’Ouest: \_\_\_\_\_  
Point le plus à l’Est: \_\_\_\_\_

4. Nous voulons apprendre à connaître les dimensions de la France. Mesure pour cela les distances et reporte les sur la carte suivante. Utilise pour cela l’outil  „Messen“ (mesurer).

